

Domeniile experiențiale:

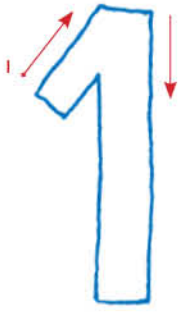
1. Domeniul Științe

2. Domeniul Estetic și creativ

Cuprins



Numărul și cifra 1	2
Numărul și cifra 2	4
Numărul și cifra 3	6
Numărul și cifra 4	8
Numărul și cifra 5	10
Numărul și cifra 6	12
Numărul și cifra 7	14
Numărul și cifra 8	16
Numărul și cifra 9	18
Numărul 10	24
Grupe de obiecte	26
Completează șirul	28
Numărat în limitele 1 –10	29
Compunere numere	30
Descompunere numere	32
Vitrina cu jucării	34
Operații cu numere – adunare	35
Operații cu numere – scădere	37
Evaluare	39

Mențiune: acest caiet poate fi utilizat în toate temele anuale de studiu.





El este Max. Max are în mână cifra 1.
Știi și tu să scrii cifra 1?

Scrive 1 în interiorul
cifrei 1 mari, urmărind
sensul dat de săgeți.



În cele patru pătrate sunt desenate
obiecte diferite. Ce obiect se repetă
în fiecare pătrat? Colorează-l.
Scrive cifra 1 lângă obiectele care
apar o singură dată.





Scrie, în fiecare pătrat, cifra 1, urmărind sensul dat de săgeți.

1	1	1							



Un copil din piscină are un colac în formă de rechin. Scrie lângă el un **X**. Încercuiește mingea roșie. Numără mingile galbene din piscină.







Scrive 2 în interiorul
cifrei 2 mari, urmărind
sensul dat de săgeți.



Găsește cifra 2 în lădiță. Colorează-o.




Scrive, în fiecare pătrat, cifra 2, urmărind sensul dat de săgeți.

	2	2							

Max are 2 jucării preferate: iepurașul Zorro și iepurașul Kuki.



Așa cum Max a pus împreună cei doi iepurași, unește și tu câte două imaginile de mai jos.





Scrie 3 în interiorul cifrei 3 mari, urmărind sensul dat de săgeți.



Termină de trasat solzii de pe corpul dinozaurului uriaș.



Scrie cifra 3 în fiecare pătrat, urmărind sensul dat de săgeți.

3	3	3							

Max scoate din ghiozdan 3 bomboane și le aruncă în sus. Descoperă lângă Max și încercuiește o altă grupă cu 3 bomboane.



Găsește toate obiectele care se repetă de 3 ori în desen și formează cu ele grupe de același fel.

Doamna educatoare le arată lui Max, Georgiei și Sofiei care sunt locurile lor în bancă.

